

TEKMOVANJE RAČUNANJE JE IGRA

ZARADI POSEBNE SITUACIJE - VIRUSA, LETOS
TEKMOVANJE RAČUNANJE JE IGRA ODPADE.

Časopis RAČUNANJE JE IGRA 1
(izhaja kot priloga delovnega zvezka)

Izdaja: Antus, Jesenice
Sestavila: Sonja Osterman
Ilustracije: Magda Češek

REŠENE NAGRADNE KUPONE FOTOGRAFIRAJTE S TELEFONOM IN POŠLJITE
PO ELEKTRONSKI POŠTI DO 15. MAJA, NA NASLOV RI1@ANTUS.SI.

IZŽREBALI BOMO 25 PRAVILNO REŠENIH KUPONOV. NAGRAJENCI BODO PREJELI
ŠOLSKE POTREBŠČINE, HOBI MATERIALE ALI KONSTRUKCIJSKE ZBIRKE
FISCHERTECHNIK. NAGRADE BOMO POSLALI PO POŠTI NA ŠOLE, OBVESTILA PA PO
ELEKTRONSKI POŠTI. IZIDE BOMO OBJAVILI TUDI NA INTERNETU, NA NASLOVU antus.si.

www.antus.si

INTERNET STRANI ZA USTVARJALNE

- ▶ Materiali in pripomočki za ustvarjanje
- ▶ Ideje
- ▶ Navodila za uporabo

- ▶ Tehnične igrače
- ▶ Škrobni valjčki




fischertechnik
fischerTIP

Antus 

www.fischertechnik.si

NAGRADNI KUPON Z REŠITVAMI

6. NALOGA



Računanje je igra 1

Časopis za zabavno računanje

1. RAZRED

št. 2, leto 2019/20

DRAGI NAJMLAJŠI ŠOLARJI!

TRIKRAT HURA ZA POČITNICE, KI SO PRED VAMI, DRAGI
ŠOLARJI. NAJ BODO SONČNE IN TOPLE, IGRAJTE SE IN
ZABAVAJTE.


PONAVLJAMO, UTRJUJEMO (pripravljamo se za tekmovanje).



POMAGAJ




NAJTI POT DO












DOKONČAJ VZOREC NA DESNI STRANI 




V PRAZNA POLJA NARIŠI LIKE \triangle \circ \square \square .
VSAK LIK JE LAHKO V VSAKI VRSTI ALI STOLPCU SAMO ENKRAT.



NAGRADNI KUPON Z REŠITVAMI

1. NALOGA



UČENEC _____ NASLOV ŠOLE _____

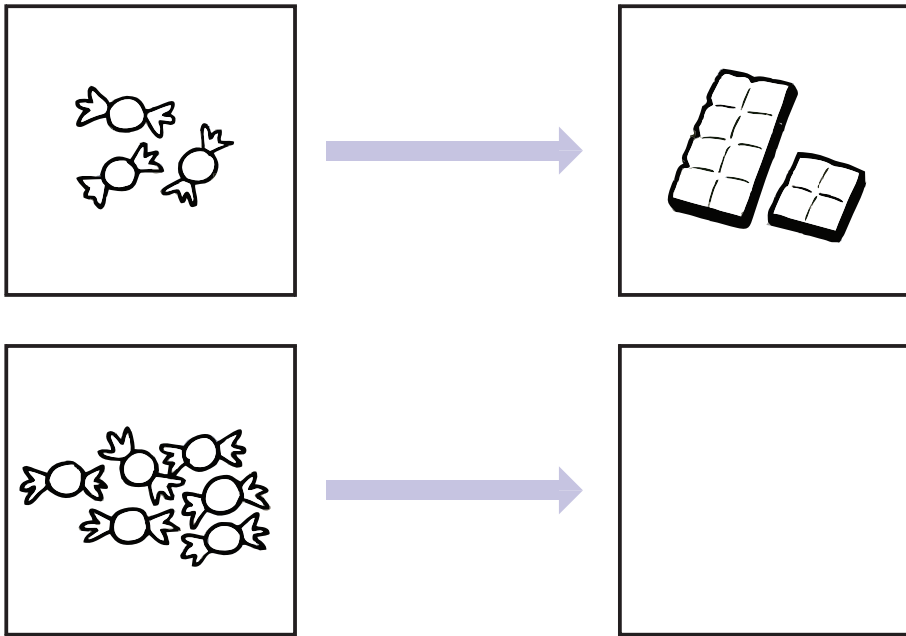
OSNOVNA ŠOLA: _____

POŠTA:


IME IN PRIIMEK: _____



6 UGOTOVI PRAVILO IN DOPOLNI RISBO.




7 NA VSAKI NASLEDNJI VEJI NAJ BOSTA 2  VEČ.





3 IZRAČUNAJ IN REZULTATE PO VRSTI POVEŽI S ČRTO.



- $7 - 5 =$
- $2 + 8 =$
- $6 - 6 =$
- $3 + 5 =$
- $9 - 4 =$
- $2 + 7 =$
- $3 + 0 + 4 =$
- $10 - 9 + 2 =$
- $4 + 3 - 6 =$
- $8 - 0 - 4 =$
- $9 - 6 + 3 =$







REŠI NALOGO.

NA  JE 10 .

NA  SO 3  MANJ.

KOLIKO  JE NA  ?

NAČRT:

RAČUN:

ODGOVOR: NA  JE .

KOLIKO JE VSEH  ?

NAČRT:

RAČUN:

ODGOVOR: VSEH  JE .







PREŠTEJ ŽIVALI NA TRAVNIKU.



PRIKAŽI S STOLPCI.

IZPOLNI TABELO.

METULJ

MRAVLJA

ČEBELA

PIKAPOLONICA